
 03100854		Economía de la Empresa (PCE)		100
		PRUEBA DE ACCESO A LA UNIVERSIDAD		
Junio - 2018	Duración: 90 min.	EXAMEN: Tipo A Lectura Óptica	MODELO 01	
Material: Calculadora no programable				Hoja 1 de 4

ATENCIÓN: 1. La puntuación máxima de la prueba es de 10 puntos. 2. Debe realizar obligatoriamente la Parte I y de la Parte II. Cada pregunta tipo test tiene solo una alternativa correcta.

TIPO A

PARTE 1: PRUEBA OBJETIVA. Puntuación máxima 5 puntos; correcta = 0,5 puntos; incorrecta = - 0,25 puntos; en blanco = No puntúan.

1. La responsabilidad limitada quiere decir que las deudas contraídas por la empresa se cubren solo:
 - a) Con los bienes de la empresa.
 - b) Con los bienes intangibles de la empresa.
 - c) Con el patrimonio personal de los socios

2. El patrimonio de una empresa se define como:
 - a) El conjunto de bienes y derechos de cobro que posee.
 - b) El conjunto de todas las obligaciones que tiene en un momento dado.
 - c) El conjunto de todos los bienes y derechos de cobro que posee así como de todas sus obligaciones.

3. El capital de una empresa es:
 - a) Un pasivo corriente.
 - b) Una deuda no exigible.
 - c) Un activo de la empresa.



4. Suponga que una empresa va a consumir 20 artículos durante el tiempo que tarda en llegar el pedido y que su stock de seguridad es de 15 unidades; cuándo esta empresa deberá emitir el pedido:
 - a) Cuando las existencias sean de 5 artículos.
 - b) Cuando las existencias sean de 35 artículos
 - c) Cuando las existencias sean de 15 artículos.

5. Cuando se produce una rotura de stocks, una de sus consecuencias puede ser:
 - a) La pérdida de clientes debido a una falta de existencias.
 - b) Al aumento de clientes debido a un aumento de la producción
 - c) Al aumento del stock de seguridad debido al incremento en el número de materias primas en el almacén.

6. El siguiente canal de distribución: Fabricante - Detallista – Consumidor, es:
 - a) Canal directo.
 - b) Canal largo.
 - c) Canal corto.

7. El Balance de una empresa registra:
 - a) Los ingresos y los gastos de la empresa.
 - b) Registra los cobros y los pagos realizados por la empresa.
 - c) El patrimonio neto, el pasivo y el activo de la empresa.

8. Sea el siguiente proyecto de inversión: -1000/400/200/300/300/300 ¿A cuánto asciende el Plazo de Recuperación de esta empresa?:
 - a) No tiene plazo de recuperación
 - b) 3 años y cuatro meses.

		Economía de la Empresa (PCE)		100
		PRUEBA DE ACCESO A LA UNIVERSIDAD		
03100854	Junio - 2018	Duración: 90 min.	EXAMEN: Tipo A Lectura Óptica	MODELO 01
Material: Calculadora no programable				Hoja 2 de 4

- c) 5 años.
9. Los planes que afectan a la totalidad de la empresa y dictan las líneas generales de actuación de la compañía, se denominan:
- Planes estratégicos.
 - Planes operativos.
 - Planes tácticos.
10. A qué masa patrimonial pertenece la partida de Proveedores:
- Activo
 - Pasivo
 - Neto

PARTE 2: PRUEBA DESARROLLO. Puntuación máxima 5 puntos.

1. Dos amigos han decidido abrir su propio negocio de fotocopias. Ellos estiman que sus costes fijos anuales ascienden a 32.000 euros y que los costes variables promedio por cada fotocopia vendida son 0,03 €, en tanto que el precio medio de venta será de 0,07 € la fotocopia.
Se pide:
- Hallar el Umbral de Rentabilidad o Punto muerto para el primer año. (Puntuación máxima 0,5 puntos)
 - ¿Cuántas copias vendieron y cuál fue su beneficio en el primer año, si obtuvieron 84.000 euros de ingresos? (Puntuación máxima 1 punto)
 - Para el segundo año, cada uno de ellos se quiere asignar un suelo fijo anual de 5.000 euros, ¿cuántas fotocopias deberán vender como mínimo para obtener beneficios este segundo año, suponiendo que los demás datos siguen siendo los mismos? (Puntuación máxima 1 punto)
2. Una empresa comercial nos ofrece la siguiente información acerca de su patrimonio, valorado en euros: dinero en efectivo, 1.200; mercaderías en almacén, 6.000; vehículos, 12.000; mobiliario, 2.000; deudas con entidades de crédito a largo plazo, 5.000; facturas pendientes de pagar a proveedores, 1.500; facturas pendientes de cobrar a clientes, 1.800; un ordenador, 1.000.
Se pide:
- Determinar el capital de esta empresa. (Puntuación máxima 1,5 puntos)
 - Calcular el fondo de maniobra y explicar su significado. (Puntuación máxima 1 punto)